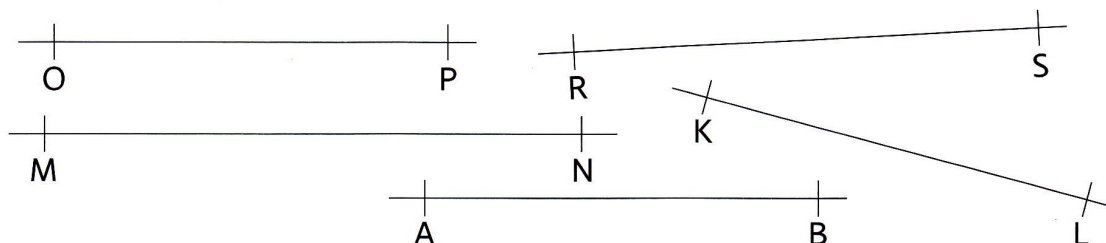


Porovnávání úseček

1 Porovnej pomocí proužku papíru dané úsečky. Doplň zápis porovnání. Shodné úsečky vyznač žlutě.



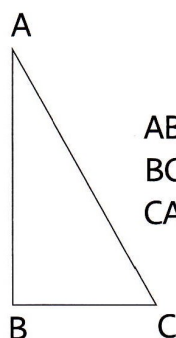
OP RS
OP AB

RS AB
KL AB
OP KL


RS KL
MN AB
MN OP

KL MN
MN RS


2 Porovnej strany geometrických útvarů.



AB BC
BC CA
CA AB



OP RS
PR SO
PR RS
SO OP



KL LM
LM MN
KL MN
LM NK

3 Spojením bodů narýsuj úsečky **AB**, **CD**, **EF**. Proužkem papíru porovnej úsečky.

A
x

B
x

F
x

x
C

x D

x
E

___ ___

___ ___

___ ___

4 Narýsuj přímou čáru. Vedle ní narýsuj úsečku BC. Na přímou čáru přenes pomocí proužku papíru úsečku BC. Novou úsečku popiš. Zapiš porovnání obou úseček.

BC ___

Úsečky jsou: _____.

